

Entoure la bonne mesure pour un objet.

Distance Roubaix / Paris	250 cm	250 m	1 km	250 km	Largeur de la classe	8 cm	1 m	8 m	8 km
-----------------------------	--------	-------	------	--------	-------------------------	------	-----	-----	------





Entoure la distance la plus longue des deux.





5 km	10 km	10 m	50 m	1 m	1 km	1 km	100 m	500 m	1 km	100 m	300 cm
------	-------	------	------	-----	------	------	-------	-------	------	-------	--------



Range les mesures de la plus courte à la plus longue : 10 m, 10 km, 100 cm, 1 km, 100 m, 1 m.



--	--	--	--	--	--



Résous les problèmes.



	Le pas de la maîtresse mesure 1 m. Combien de pas doit-elle faire pour parcourir 1 km ?		Combien d'élèves faudra-t-il pour faire un kilomètre si chaque élève court 500 m ?
	Recherche / calcul		Recherche / calcul
	.....		.....

	Thomas doit marcher 400 m pour aller à l'école. Amélie doit marcher 600 m pour aller à l'école. Quelle distance Amélie doit-elle marcher en plus par rapport à Thomas ?		Combien d'élèves faudra-t-il pour faire un kilomètre si chaque élève court 250 m ?
	Recherche / calcul		Recherche / calcul
	.....		.....

	Combien d'élèves faudra-t-il pour faire un kilomètre si chaque élève court 100 m ?
	Recherche / calcul
	.....

	Des cyclistes ont parcouru 150 km le lundi et 130 km le mardi. Quelle distance ont-ils parcourue durant ces deux jours ?
	Recherche / calcul
	.....

	Combien d'élèves faudra-t-il pour faire un kilomètre si chaque élève court 50 m ?
	Recherche / calcul
	.....

	Le compteur de ma voiture indique 320 km. J'ai parcouru 110 km pendant les vacances. Qu'indiquait le compteur avant mon départ ?
	Recherche / calcul
	.....